

ФИО, класс _____

56 Шифр ОБн 5-2

Линия отреза ---

Шифр ОБн 5-2

Муниципальное образование «Гурьевский муниципальный округ»
ВСЕРОССИЙСКАЯ ОЛИМПИАДА ШКОЛЬНИКОВ ПО ЭКОНОМИКЕ
(школьный этап)
2023 – 2024 учебный год
5-6 классы

Время выполнения: 45 минут

Тестовые задания

Определите один правильный ответ.

За правильный ответ начисляется 4 балла. 0 баллов выставляется за неправильный ответ, а также если участником отмечено более одного ответа (в том числе правильный).

1. Пешеход

- а) всегда является участником дорожного движения
- б) не является участником дорожного движения
- в) является участником дорожного движения только в возрасте старше 16 лет
- г) не является участником дорожного движения в возрасте до 14 лет

2. Какой вид костра рекомендуется использовать только для ночёвки?

- а) «шалаш»
- б) «пирамида»
- в) «колодец»
- г) «полинезийский»

3. В октябре 1960 г. шесть кандидатов на первый полёт в космос приступили к занятиям на тренажёре космического корабля, названного так же, как и одна из сторон света. Как назывался космический корабль?

- а) «Запад»
- б) «Север»
- в) «Восток»
- г) «Юг»

4. Находясь на эскалаторе, необходимо

- а) стоять справа лицом по направлению его движения
- б) стоять слева лицом по направлению его движения
- в) стоять правым боком по направлению его движения
- г) стоять левым боком по направлению его движения

4
1265

5. **Какая минимальная толщина льда считается безопасной для одного человека?**

- а) не менее 7 см
- б) не менее 10 см
- в) не менее 5 см
- г) не менее 12 см

6. **Об обнаружении бесхозного предмета в вагоне метро в первую очередь необходимо сообщить**
- а) машинисту по экстренной связи «пассажир-машинист»
 - б) в полицию по сотовому телефону
 - в) дежурному по станции после прибытия на неё состава
 - г) пассажирам вагона голосом
7. **При переходе водоёма по льду рюкзак рекомендуется повесить на**
- а) оба плеча
 - б) одно плечо
 - в) грудь
 - г) оба плеча и сцепить лямки рюкзака между собой
8. **Ведущий фактор, оказывающий влияние на здоровье человека, по данным Всемирной организации здравоохранения, -**
- а) наследственность
 - б) состояние окружающей среды
 - в) образ жизни
 - г) уровень медицинского обеспечения
9. **Пострадавший поранил руку. Кровь из раны вытекает равномерно, не пульсирует, тёмно-красного цвета. Какой вид кровотечения можно заподозрить?**
- а) артериальное
 - б) венозное
 - в) капиллярное
 - г) паренхиматозное
10. **Какое подручное средство рекомендуется использовать для остановки венозного кровотечения?**
- а) кровоостанавливающий жгут
 - б) брючный ремень
 - в) чистую ткань
 - г) тонкий шнур

Определите два правильных ответа.

За каждый правильный ответ начисляется 4 балла.

1. Определите смысловое значение и область применения данного знака безопасности на объектах инфраструктуры ОАО «РЖД».

- а) «Запрещается прикасаться. Корпус под напряжением»
- б) «Самовольное открытие и задержка закрытия дверей не допускается!»
- в) размещается в непосредственной близости от входных дверей в вокзал
- г) «Внимание. Опасность зажима».
- д) наклеивается в тамбурах возле автоматических дверей, ведущих на выход

4



2. Определите смысловое значение и группу данного знака безопасности.

- а) запрещающий знак
- б) «Запрещается прикасаться. Опасно»
- в) «Запрещается нажимать»
- г) предупреждающий знак
- д) «Не включать!»

0



3. Костёр нодья оптимально использовать для

- а) просушки вещей
- б) подачи светового сигнала
- в) обогрева
- г) приготовления пищи
- д) ночёвки

4

4. Что может являться источником природной ЧС?

- а) загор
- б) химическая авария
- в) эпизоотия
- г) обвал
- д) катастрофа

8

5. К признакам возникновения урагана относят

- а) резкое падение атмосферного давления
- б) повышение температуры воздуха
- в) резкое прекращение дождя
- г) ливневые дожди
- д) быстрое исчезновение грозных облаков

4

6. К опасным гидрологическим явлениям и процессам относят

- а) карст
- б) град

- в) ливень
- г) лавину (снежную) 4
- д) сель

7. В каком положении лучше держать руки, оказавшись в толпе?

- а) перед грудью
- б) перед лицом
- в) отвести сильно в стороны 4
- г) сцепить в замок
- д) в карманах

8. Выберите группы факторов, которые оказывают равноценное влияние на здоровье человека по данным Всемирной организации здравоохранения.

- а) образ жизни
- б) наследственность
- в) уровень медицинского обеспечения 0
- г) регулярность диспансеризации
- д) состояние окружающей среды

9. Какие признаки свидетельствуют о наличии у пострадавшего частичной обструкции дыхательных путей при попадании в них инородного тела?

- а) может говорить
- б) не может говорить 0
- в) кашляет
- г) дыхание значительно затруднено (шумное, хриплое)
- д) дыхание отсутствует

10. Какие действия запрещены при оказании первой помощи пострадавшему с термическим ожогом?

- а) наложение нетугой повязки
- б) вскрытие ожоговых пузырей 8
- в) смазывание повреждённого участка жирами
- г) охлаждение повреждённого участка
- д) иммобилизация при глубоких ожогах

Теоретические задания 2 часть

Задание 1

Расположите предложенные фрагменты в верной последовательности, чтобы в итоге получилось определение одного из участников дорожного движения.

Оценка задания. Максимальная оценка за правильно выполненное задание – 20 баллов

1. вне транспортного средства на
2. лицо, находящееся
3. не производящее на них работу
4. велосипедной дорожке и дороге
- 5) либо на пешеходной или

2	1
1	2
5	3
4	4
3	5

20

Задание 2

Оценка задания. Максимальная оценка за правильно выполненное задание – 20 баллов

Выберите пять правил безопасности на эскалаторе.

1. Стой справа, лицом по направлению движения.
2. Если нужно спуститься, то делай это с правой стороны, при этом не держись за поручень.
- 3) Стой слева, лицом по направлению движения.
- 4) Если нужно спуститься, то делай это с левой стороны и держись за поручень.
- 5) Не наступать на ограничительную линию на ступенях и не задерживаться при сходе с эскалатора.
- 6) При сходе с эскалатора остановись и осмотрись, прежде чем сделать шаг.
- 7) На эскалаторе нельзя сидеть и бегать.
8. Сидеть на ступенях эскалатора можно только по направлению движения.
9. Не ставить вещи на ступени и поручни.
10. На ступени и поручни можно ставить вещи, сумма измерений которых по длине, ширине и высоте не превышает 150 см.

6

Задание 3

Оценка задания. Максимальная оценка за правильно выполненное задание – 20 баллов

Объекты железнодорожного транспорта являются зонами повышенной опасности, на которых действуют определённые правила поведения. Укажите, какие действия запрещены, а какие необходимо выполнять с целью обеспечения безопасности на объектах железнодорожного транспорта.

1. перед переходом через железнодорожные пути по пешеходному настилу обеспечивать личную зону видимости		А. запрещённые действия
2. прыгать с пассажирской платформы		2
3. ходить вдоль железнодорожных путей		3
4. подавать сигнал для остановки поезда в случаях возникновения ситуации, требующей экстренной остановки железнодорожного подвижного состава		5
5. передвигаться на самокатах и роликовых коньках		Б. необходимые действия
		1
		4

Задание 4

Оценка задания. Максимальная оценка за правильно выполненное задание – 20 баллов

Выберите безопасные и небезопасные действия во время грозы.

1. прятаться под низкими деревьями и кустарниками
2. прижаться спиной к стволу дерева
3. сидеть в позе эмбриона
4. распластаться на земле
5. встать под одинокое дерево, стог сена, столб
6. сесть как можно ниже
7. подняться на возвышенность
8. при нахождении в воде выйти из воды и отойти от неё не менее чем на 100 м
9. не приближаться к одиноко стоящим объектам
10. при нахождении в воде подойти ближе к низкорослой растительности, находящейся в воде

А. безопасно	
4	8, 10
6	9
Б. небезопасно	
1	5
2	7
3	

Задание 5

Оценка задания. Максимальная оценка за правильно выполненное задание – 20 баллов

Бинтовые повязки накладываются по определённым правилам. Определите, пять правил наложения бинтовых повязок, которые являются верными.

1. Во время перевязки рекомендуется стоять лицом к пострадавшему (по возможности)
2. Расположение человека, накладывающего повязку, относительно пострадавшего не имеет значения
3. Положение перевязываемой части тела можно менять в процессе перевязки
4. Положение перевязываемой части тела нельзя менять в процессе перевязки
5. Ширина бинта должна быть равна или больше диаметра перевязываемой конечности
6. Ширина бинта должна быть меньше диаметра перевязываемой части тела
7. Туры бинта накладываются по часовой стрелке относительно бинтующего (преимущественно)
8. Туры бинта накладываются всегда против часовой стрелки относительно бинтующего
9. Повязку следует начинать накладывать с более узкого места, постепенно переходя к более широкому
10. Повязку следует начинать накладывать с более широкого места, постепенно переходя к более узкому

20

126 5

ФИО, класс _____

6,а⁴ Шифр Ох6-2

Линия отреза -----

Шифр Ох6-2

Муниципальное образование «Гурьевский муниципальный округ»
ВСЕРОССИЙСКАЯ ОЛИМПИАДА ШКОЛЬНИКОВ ПО ЭКОНОМИКЕ
(школьный этап)
2023 – 2024 учебный год
5-6 классы

Время выполнения: 45 минут

Тестовые задания

Определите один правильный ответ.

За правильный ответ начисляется 4 балла. 0 баллов выставляется за неправильный ответ, а также если участником отмечено более одного ответа (в том числе правильный).

1. Пешеход

- а) всегда является участником дорожного движения
- б) не является участником дорожного движения
- в) является участником дорожного движения только в возрасте старше 16 лет
- г) не является участником дорожного движения в возрасте до 14 лет

4

2. Какой вид костра рекомендуется использовать только для ночёвки?

- а) «шалаш»
- б) «пирамида»
- в) «колодец»
- г) «полинезийский»

0

3. В октябре 1960 г. шесть кандидатов на первый полёт в космос приступили к занятиям на тренажёре космического корабля, названного так же, как и одна из сторон света. Как назывался космический корабль?

- а) «Запад»
- б) «Север»
- в) «Восток»
- г) «Юг»

4

4. Находясь на эскалаторе, необходимо

- а) стоять справа лицом по направлению его движения
- б) стоять слева лицом по направлению его движения
- в) стоять правым боком по направлению его движения
- г) стоять левым боком по направлению его движения

0

15 05

5. **Какая минимальная толщина льда считается безопасной для одного человека?**

- а) не менее 7 см
- б) не менее 10 см
- в) не менее 5 см
- г) не менее 12 см

○

6. **Об обнаружении бесхозного предмета в вагоне метро в первую очередь необходимо сообщить**
- а) машинисту по экстренной связи «пассажир-машинист»
 - б) в полицию по сотовому телефону
 - в) дежурному по станции после прибытия на неё состава
 - г) пассажирам вагона голосом
7. **При переходе водоёма по льду рюкзак рекомендуется повесить на**
- а) оба плеча
 - б) одно плечо
 - в) грудь
 - г) оба плеча и сцепить лямки рюкзака между собой
8. **Ведущий фактор, оказывающий влияние на здоровье человека, по данным Всемирной организации здравоохранения, -**
- а) наследственность
 - б) состояние окружающей среды
 - в) образ жизни
 - г) уровень медицинского обеспечения
9. **Пострадавший поранил руку. Кровь из раны вытекает равномерно, не пульсирует, тёмно-красного цвета. Какой вид кровотечения можно заподозрить?**
- а) артериальное
 - б) венозное
 - в) капиллярное
 - г) паренхиматозное
10. **Какое подручное средство рекомендуется использовать для остановки венозного кровотечения?**
- а) кровоостанавливающий жгут
 - б) брючный ремень
 - в) чистую ткань
 - г) тонкий шнур

Определите два правильных ответа.

За каждый правильный ответ начисляется 4 балла.

1. Определите смысловое значение и область применения данного знака безопасности на объектах инфраструктуры ОАО «РЖД».

- а) «Запрещается прикасаться. Корпус под напряжением»
- б) «Самовольное открытие и задержка закрытия дверей не допускается!»
- в) размещается в непосредственной близости от входных дверей в вокзал
- г) «Внимание. Опасность зажима».
- д) наклеивается в тамбурах возле автоматических дверей, ведущих на выход



2. Определите смысловое значение и группу данного знака безопасности.

- а) запрещающий знак
- б) «Запрещается прикасаться. Опасно»
- в) «Запрещается нажимать»
- г) предупреждающий знак
- д) «Не включать!»



3. Костёр ночью оптимально использовать для

- а) просушки вещей
- б) подачи светового сигнала
- в) обогрева
- г) приготовления пищи
- д) ночёвки

4. Что может являться источником природной ЧС?

- а) зажор
- б) химическая авария
- в) эпизоотия
- г) обвал
- д) катастрофа

5. К признакам возникновения урагана относят

- а) резкое падение атмосферного давления
- б) повышение температуры воздуха
- в) резкое прекращение дождя
- г) ливневые дожди
- д) быстрое исчезновение грозных облаков

6. К опасным гидрологическим явлениям и процессам относят

- а) карст
- б) град

- в) ливень
- г) лавину (снежную)
- д) сель

8

7. В каком положении лучше держать руки, оказавшись в толпе?

- а) перед грудью
- б) перед лицом
- в) отвести сильно в стороны
- г) сцепить в замок
- д) в карманах

4

8. Выберите группы факторов, которые оказывают равноценное влияние на здоровье человека по данным Всемирной организации здравоохранения.

- а) образ жизни
- б) наследственность
- в) уровень медицинского обеспечения
- г) регулярность диспансеризации
- д) состояние окружающей среды

4

9. Какие признаки свидетельствуют о наличии у пострадавшего частичной обструкции дыхательных путей при попадании в них инородного тела?

- а) может говорить
- б) не может говорить
- в) кашляет
- г) дыхание значительно затруднено (шумное, хриплое)
- д) дыхание отсутствует

0

10. Какие действия запрещены при оказании первой помощи пострадавшему с термическим ожогом?

- а) наложение нетугой повязки
- б) вскрытие ожоговых пузырей
- в) смазывание повреждённого участка жирами
- г) охлаждение повреждённого участка
- д) иммобилизация при глубоких ожогах

4

Теоретические задания 2 часть

Задание 1

Расположите предложенные фрагменты в верной последовательности, чтобы в итоге получилось определение одного из участников дорожного движения.

Оценка задания. Максимальная оценка за правильно выполненное задание – 20 баллов

1. вне транспортного средства на
2. лицо, находящееся
3. не производящее на них работу
4. велосипедной дорожке и дороге
- 5) либо на пешеходной или .

1 2. +
2 1. +
3 5. +
4 4. +
5 3. +

Задание 2

20

Оценка задания. Максимальная оценка за правильно выполненное задание – 20 баллов

Выберите пять правил безопасности на эскалаторе.

- ① Стой справа, лицом по направлению движения.
2. Если нужно спуститься, то делай это с правой стороны, при этом не держись за поручень.
3. Стой слева, лицом по направлению движения.
- ④ Если нужно спуститься, то делай это с левой стороны и держись за поручень.
- ⑤ Не наступать на ограничительную линию на ступенях и не задерживаться при спуске с эскалатора.
6. При спуске с эскалатора остановись и осмотришься, прежде чем сделать шаг.
- ⑦ На эскалаторе нельзя сидеть и бегать.
8. Сидеть на ступенях эскалатора можно только по направлению движения.
- ⑨ Не ставить вещи на ступени и поручни.
10. На ступени и поручни можно ставить вещи, сумма измерений которых по длине, ширине и высоте не превышает 150 см.

20

Задание 3

Оценка задания. Максимальная оценка за правильно выполненное задание – 20 баллов

Объекты железнодорожного транспорта являются зонами повышенной опасности, на которых действуют определённые правила поведения. Укажите, какие действия запрещены, а какие необходимо выполнять с целью обеспечения безопасности на объектах железнодорожного транспорта.

1. перед переходом через железнодорожные пути по пешеходному настилу обеспечивать личную зону видимости		А. запрещённые действия 2; 3; 5 + + -
2. прыгать с пассажирской платформы		
3. ходить вдоль железнодорожных путей		
4. подавать сигнал для остановки поезда в случаях возникновения ситуации, требующей экстренной остановки железнодорожного подвижного состава		
5. передвигаться на самокатах и роликовых коньках		Б. необходимые действия 1; 4 + +

Задание 4

Оценка задания. Максимальная оценка за правильно выполненное задание – 20 баллов

Выберите безопасные и небезопасные действия во время грозы.

1. прятаться под низкими деревьями и кустарниками а)
2. прижаться спиной к стволу дерева д)
3. сидеть в позе эмбриона
4. распластаться на земле
5. встать под одинокое дерево, стог сена, столб
6. сесть как можно ниже
7. подняться на возвышенность
8. при нахождении в воде выйти из воды и отойти от неё не менее чем на 100 м
9. не приближаться к одиноко стоящим объектам
10. при нахождении в воде подойти ближе к низкорослой растительности, находящейся в воде

А. безопасно
1) 3) 4) 6) 8) 9)
+ + - + + +

Б. небезопасно
2) 5) 7) 10)
+ + + +

18

Задание 5

Оценка задания. Максимальная оценка за правильно выполненное задание – 20 баллов

Бинтовые повязки накладываются по определённым правилам. Определите, пять правил наложения бинтовых повязок, которые являются верными.

- ① Во время перевязки рекомендуется стоять лицом к пострадавшему (по возможности)
2. Расположение человека, накладывающего повязку, относительно пострадавшего не имеет значения
3. Положение перевязываемой части тела можно менять в процессе перевязки
- ④ Положение перевязываемой части тела нельзя менять в процессе перевязки
- ⑤ Ширина бинта должна быть равна или больше диаметра перевязываемой конечности
6. Ширина бинта должна быть меньше диаметра перевязываемой части тела
- ⑦ Туры бинта накладываются по часовой стрелке относительно бинтующего (преимущественно)
8. Туры бинта накладываются всегда против часовой стрелки относительно бинтующего
- ⑨ Повязку следует начинать накладывать с более узкого места, постепенно переходя к более широкому
10. Повязку следует начинать накладывать с более широкого места, постепенно переходя к более узкому

ФИО, класс 1

Шифр ОЭЖ-7-13

Линия отреза -----

Шифр ОЭЖ-7-13

Муниципальное образование «Гурьевский муниципальный округ»
ВСЕРОССИЙСКАЯ ОЛИМПИАДА ШКОЛЬНИКОВ ПО ЭКОНОМИКЕ
(школьный этап)
2023 – 2024 учебный год
7-8 классы

Время выполнения: 45 минут

Тестовые задания

Определите один правильный ответ.

За правильный ответ начисляется 2 балла. 0 баллов выставляется за неправильный ответ, а также если участником отмечено более одного ответа (в том числе правильный).

1. **Пассажир -**

а) лицо, кроме водителя, находящееся в транспортном средстве, входящее в него или выходящее из него -

б) только лицо, находящееся в транспортном средстве и выходящее из него

в) только лицо, садящееся в транспортное средство и находящееся в нём

г) только лицо, входящее в транспортное средство и выходящее из него

2. **Какой вид костра рекомендуется использовать только для приготовления пищи?**

а) «шалаш»

б) «пирамида»

в) «колодец»

г) «полинезийский»

3. **В том случае, если космонавтов не сразу обнаружили после возвращения на Землю, до прибытия спасателей им помогает выжить**

а) SOS

б) АМС

в) ИСС

г) НАЗ

4. **На знамени МЧС России вышиты слова**

а) «Спасать, тушить, предупреждать»

б) «Предотвращение, спасение, помощь»

в) «Спасение во имя жизни - наше призвание»

605

г) «Учимся побеждать, предупреждать и спасать»

5. При выходе из зоны возможного химического заражения рекомендуется двигаться

- а) перпендикулярно направлению ветра
- б) параллельно направлению ветра
- в) по ветру
- г) по диагонали относительно направления ветра

2

6. **Единым номером вызова экстренных оперативных служб является**
- а) 1-1-2
 - б) 1-0-3
 - в) 1-1-1
 - г) 1-0-4
7. **Обнаружен бесхозный предмет. Установите минимальный радиус зоны эвакуации.**
- а) 250 м
 - б) 230 м
 - в) 460 м
 - г) 200 м
8. **Канцерогенные вещества, содержащиеся в табачном дыме, приводят к развитию**
- а) заболеваний сердца
 - б) злокачественных новообразований
 - в) заболеваний суставов
 - г) сосудистой патологии
9. **При частичном нарушении проходимости дыхательных путей, когда человек подавился, но может разговаривать, первую помощь рекомендуется начать с**
- а) нанесения 5 ударов между лопатками
 - б) предложения покашлять
 - в) выполнения приёма Геймлиха
 - г) предложения выпить тёплой воды
10. **Велосипедист упал, повредил ногу в нижней трети голени. Какое минимальное количество суставов необходимо иммобилизовать, если выявлены признаки перелома?**
- а) один
 - б) два
 - в) три
 - г) четыре

Определите два правильных ответа.

За каждый правильный ответ начисляется 2 балла.

1. **Определите смысловое значение и область применения данного знака безопасности на объектах инфраструктуры ОАО «РЖД».**

- а) устанавливается на территории платформ железнодорожных станций и вокзалов, у переходов и переездов через железнодорожные пути
- б) «Берегись поезда!»
- в) устанавливается в местах прохода граждан через железнодорожные пути
- г) «Движение скоростных поездов»
- д) «Переходить через железнодорожные пути опасно»



2. **Определите смысловое значение и группу данного знака безопасности.**

- а) предупреждающий знак
- б) «Ядовитые вещества»
- в) предписывающий знак
- г) «Запрещается брать руками»
- д) «Опасно. Едкие и коррозионные вещества»



3. **Какие узлы рекомендуется использовать для закрепления веревок к опоре?**

- а) булинь
- б) грейпвайн
- в) «двойной проводник»
- г) прусик
- д) «штык»

4. **Выберите параметры природной ЧС локального характера, территория которой не выходит за пределы территории объекта.**

- а) количество людей, погибших и (или) получивших ущерб здоровью, составляет не более 50 человек
- б) размер ущерба окружающей природной среде и материальных потерь составляет не более 240 тыс. рублей
- в) размер материального ущерба составляет не более 12 млн рублей
- г) количество людей, погибших и (или) получивших ущерб здоровью, составляет не более 10 человек
- д) количество людей, погибших и (или) получивших ущерб здоровью, составляет свыше 50 человек, но не более 500 человек

5. **Какие из перечисленных служб входят в перечень экстренных оперативных служб, вызов которых круглосуточно и бесплатно обязан обеспечить оператор связи пользователю услугами связи?**

- а) служба реагирования в чрезвычайных ситуациях
- б) служба «ГосОтлов»
- в) служба «Антитеррор»
- г) служба экстренного реагирования на землетрясение
- д) служба вневедомственной охраны МВД РФ

6. К опасным геологическим явлениям и процессам относят

- а) переработку берегов
- б) просадку в лессовых грунтах
- в) сель
- г) торфяной пожар
- д) пыльную бурю

7. Сообщения какой тематики принимает Главное управление по противодействию экстремизму МВД России?

- а) о скулшутинге
- б) о распространении информации, наносящей вред здоровью и развитию детей
- в) об актах суицида
- г) об интернет-мошенничестве
- д) о пропаганде социальной, расовой, национальной или религиозной розни

8. Выберите периоды максимальной работоспособности в течение суток.

- а) 6:00-8:00
- б) 9:00-12:00
- в) 12:00-15:00
- г) 16:00-18:00
- д) 19:00-21:00

9. При каких состояниях оказывается первая помощь?

- а) отсутствие сознания
- б) повышение температуры тела до 39 °С
- в) повышение артериального давления
- г) отравление
- д) аллергическая реакция на коже в виде характерной сыпи (крапивница)

10. Какие мероприятия по поддержанию проходимости дыхательных путей применяются при оказании первой помощи?

- а) придание устойчивого бокового положения
- б) использование S-образного воздуховода
- в) интубация трахеи
- г) использование медицинской лицевой маски с обратным клапаном
- д) запрокидывание головы с подъемом подбородка

Теоретические задания

Задание 1

Максимальная оценка за правильно выполненное задание – 10 баллов

Расположите предложенные фрагменты в верной последовательности, чтобы в итоге получилось определение.

А. для перевозки по
Б. дорогам людей, грузов или
В. оборудования,
Г. установленного на нём
Д. устройство, предназначенное

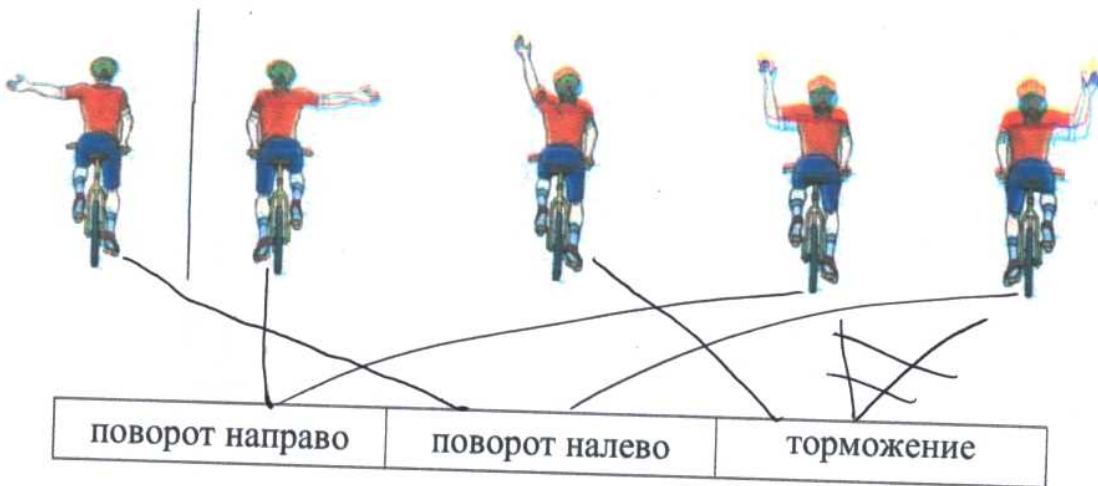
1	Д
2	А
3	Б
4	В
5	Г

Задание 2

Максимальная оценка за правильно выполненное задание – 10 баллов

Укажите, какие сигналы рукой должен подать велосипедист для обозначения:

- поворот направо;
- поворот налево;
- торможение.



100

Задание 3

Максимальная оценка за правильно выполненное задание – 10 баллов

Сопоставьте изображения визуальных сигналов, передаваемых потерпевшими бедствие экипажам поисково-спасательных самолётов (вертолётов), с их значениями.

Изображения визуальных сигналов	Значения визуальных сигналов
+	«Операции закончены» 1
-	«Требуется медицинская помощь» 2
-	«Требуется карта и компас» 3
-	«Не понял» 4
-	«Всё в порядке» 5
-	«Судно серьёзно повреждено» 6
+	«Требуется топливо и масло» 7
-	«Двигаемся в этом направлении» 8
-	«Нужны медикаменты» 9
-	«Нужны пища и вода» 10

25

Задание 4

Максимальная оценка за правильно выполненное задание – 10 баллов

Вы увидели, как турист упал с обрыва и ударился животом о камень. Удар пришёлся в левое подреберье. Пострадавший жалуется на боли в животе, слабость, головокружение. При осмотре отмечается бледность кожных покровов, частый слабый пульс.

Расставьте мероприятия первой помощи в очередности их выполнения.

1.	Выполнить подробный осмотр пострадавшего (выявить болезненность в области живота).	3
2.	Провести обзорный осмотр пострадавшего на наличие наружного кровотечения (убедиться в его отсутствии).	2
3.	Оценить обстановку, убедиться в безопасности оказания первой помощи.	4 1.
4.	Оказать пострадавшему психологическую помощь (разговаривать с пострадавшим до приезда скорой медицинской помощи (СМП)), передать пострадавшего бригаде СМП.	5
5.	Придать пострадавшему оптимальное положение тела, приложить холод к животу (по возможности), вызвать скорую медицинскую помощь.	4

105

60

ФИО, класс К

Шифр Обж 8-4

Линия отреза

Шифр Обж 8-4

Муниципальное образование «Гурьевский муниципальный округ»
ВСЕРОССИЙСКАЯ ОЛИМПИАДА ШКОЛЬНИКОВ ПО ЭКОНОМИКЕ
(школьный этап)
2023 – 2024 учебный год
7-8 классы

Время выполнения: 45 минут

Тестовые задания

Определите один правильный ответ.

За правильный ответ начисляется 2 балла. 0 баллов выставляется за неправильный ответ, а также если участником отмечено более одного ответа (в том числе правильный).

1. **Пассажир -**

- + 2
- а) лицо, кроме водителя, находящееся в транспортном средстве, входящее в него или выходящее из него
 - б) только лицо, находящееся в транспортном средстве и выходящее из него
 - в) только лицо, садящееся в транспортное средство и находящееся в нём
 - г) только лицо, входящее в транспортное средство и выходящее из него

2. **Какой вид костра рекомендуется использовать только для приготовления пищи?**

- 0
- а) «шалаш»
 - б) «пирамида»
 - в) «колодец»
 - г) «полинезийский»

3. **В том случае, если космонавтов не сразу обнаружили после возвращения на Землю, до прибытия спасателей им помогает выжить**

- 0
- а) SOS
 - б) АМС
 - в) ИСС
 - г) НАЗ

4. **На знамени МЧС России вышиты слова**

- + 2
- а) «Спасать, тушить, предупреждать»
 - б) «Предотвращение, спасение, помощь»
 - в) «Спасение во имя жизни - наше призвание»
 - г) «Учимся побеждать, предупреждать и спасать»

5. При выходе из зоны возможного химического заражения рекомендуется двигаться

- а) перпендикулярно направлению ветра
- б) параллельно направлению ветра
- в) по ветру
- г) по диагонали относительно направления ветра

+
2

6. Единым номером вызова экстренных оперативных служб является

- +
2
- а) 1-1-2
 - б) 1-0-3
 - в) 1-1-1
 - г) 1-0-4

7. Обнаружен бесхозный предмет. Установите минимальный радиус зоны эвакуации.

- 0
- а) 250 м
 - б) 230 м
 - в) 460 м
 - г) 200 м

8. Канцерогенные вещества, содержащиеся в табачном дыме, приводят к развитию

- +
2
- а) заболеваний сердца
 - б) злокачественных новообразований
 - в) заболеваний суставов
 - г) сосудистой патологии

9. При частичном нарушении проходимости дыхательных путей, когда человек подавился, но может разговаривать, первую помощь рекомендуется начать с

- 0
- а) нанесения 5 ударов между лопатками
 - б) предложения покашлять
 - в) выполнения приёма Геймлиха
 - г) предложения выпить тёплой воды

10. Велосипедист упал, повредил ногу в нижней трети голени. Какое минимальное количество суставов необходимо иммобилизовать, если выявлены признаки перелома?

- +
7
- а) один
 - б) два
 - в) три
 - г) четыре

Определите два правильных ответа.

За каждый правильный ответ начисляется 2 балла.

1. Определите смысловое значение и область применения данного знака безопасности на объектах инфраструктуры ОАО «РЖД».

- а) устанавливается на территории платформ железнодорожных станций и вокзалов, у переходов и переездов через железнодорожные пути
- б) «Берегись поезда!»
- в) устанавливается в местах прохода граждан через железнодорожные пути
- г) «Движение скоростных поездов»
- д) «Переходить через железнодорожные пути опасно»



2. Определите смысловое значение и группу данного знака безопасности.

- а) предупреждающий знак
- б) «Ядовитые вещества»
- в) предписывающий знак
- г) «Запрещается брать руками»
- д) «Опасно. Едкие и коррозионные вещества»



3. Какие узлы рекомендуется использовать для закрепления веревок к опоре?

- а) булинь
- б) грейпвайн
- в) «двойной проводник»
- г) прусик
- д) «штык»

4. Выберите параметры природной ЧС локального характера, территория которой не выходит за пределы территории объекта.

- а) количество людей, погибших и (или) получивших ущерб здоровью, составляет не более 50 человек
- б) размер ущерба окружающей природной среде и материальных потерь составляет не более 240 тыс. рублей
- в) размер материального ущерба составляет не более 12 млн рублей
- г) количество людей, погибших и (или) получивших ущерб здоровью, составляет не более 10 человек
- д) количество людей, погибших и (или) получивших ущерб здоровью, составляет свыше 50 человек, но не более 500 человек

5. Какие из перечисленных служб входят в перечень экстренных оперативных служб, вызов которых круглосуточно и бесплатно обязан обеспечить оператор связи пользователю услугами связи?

- а) служба реагирования в чрезвычайных ситуациях
- б) служба «ГосОтлов»

- в) служба «Антитеррор»
- г) служба экстренного реагирования на землетрясение
- д) служба вневедомственной охраны МВД РФ

6. К опасным геологическим явлениям и процессам относят

- а) переработку берегов
- б) просадку в лессовых грунтах
- в) сель
- г) торфяной пожар
- д) пыльную бурю

7. Сообщения какой тематики принимает Главное управление по противодействию экстремизму МВД России?

- а) о скулшутинге
- б) о распространении информации, наносящей вред здоровью и развитию детей
- в) об актах суицида
- г) об интернет-мошенничестве
- д) о пропаганде социальной, расовой, национальной или религиозной розни

8. Выберите периоды максимальной работоспособности в течение суток.

- а) 6:00-8:00
- б) 9:00-12:00
- в) 12:00-15:00
- г) 16:00-18:00
- д) 19:00-21:00

9. При каких состояниях оказывается первая помощь?

- а) отсутствие сознания
- б) повышение температуры тела до 39 °С
- в) повышение артериального давления
- г) отравление
- д) аллергическая реакция на коже в виде характерной сыпи (крапивница)

10. Какие мероприятия по поддержанию проходимости дыхательных путей применяются при оказании первой помощи?

- а) придание устойчивого бокового положения
- б) использование S-образного воздуховода
- в) интубация трахеи
- г) использование медицинской лицевой маски с обратным клапаном
- д) запрокидывание головы с подъемом подбородка

Теоретические задания

Задание 1

Максимальная оценка за правильно выполненное задание – 10 баллов

Расположите предложенные фрагменты в верной последовательности, чтобы в итоге получилось определение.

+ 2	А. для перевозки по
+ 3	Б. дорогам людей, грузов или
- 4	В. оборудования,
- 5	Г. установленного на нём
+ 1	Д. устройство, предназначенное

1
2
3
4
5

65

Задание 2

Максимальная оценка за правильно выполненное задание – 10 баллов

Укажите, какие сигналы рукой должен подать велосипедист для обозначения:

- поворот направо;
- поворот налево;
- торможение.



+

+











+

65

Задание 3

Максимальная оценка за правильно выполненное задание – 10 баллов

Сопоставьте изображения визуальных сигналов, передаваемых потерпевшими бедствие экипажам поисково-спасательных самолётов (вертолётов), с их значениями.

Изображения визуальных сигналов		Значения визуальных сигналов	
10		+	1 «Операции закончены» +
2		+	2 «Требуется медицинская помощь» +
9 & 8		+	+ 3 «Требуется карта и компас»
3		+	4 «Не понял» +
8		+	+ 5 «Всё в порядке»
6		+	+ 6 «Судно серьёзно повреждено»
7		+	+ 7 «Требуется топливо и масло»
5		+	+ 8 «Двигаемся в этом направлении»
4		+	9 «Нужны медикаменты» +
1		+	10 «Нужны пища и вода» +

105

Задание 4

Максимальная оценка за правильно выполненное задание – 10 баллов

Вы увидели, как турист упал с обрыва и ударился животом о камень. Удар пришёлся в левое подреберье. Пострадавший жалуется на боли в животе, слабость, головокружение. При осмотре отмечается бледность кожных покровов, частый слабый пульс.

Расставьте мероприятия первой помощи в очерёдности их выполнения.

4	1. Выполнить подробный осмотр пострадавшего (выявить болезненность в области живота).
3	2. Провести обзорный осмотр пострадавшего на наличие наружного кровотечения (убедиться в его отсутствии).
1	3. Оценить обстановку, убедиться в безопасности оказания первой помощи.
5	4. Оказать пострадавшему психологическую помощь (разговаривать с пострадавшим до приезда скорой медицинской помощи (СМП)), передать пострадавшего бригаде СМП.
2	5. Придать пострадавшему оптимальное положение тела, приложить холод к животу (по возможности), вызвать скорую медицинскую помощь.

45

~~445~~ 565

ФИО, класс

Шифр 0324 11-4

Линия отреза

Шифр 0324 11-4

Муниципальное образование «Гурьевский муниципальный округ»
ВСЕРОССИЙСКАЯ ОЛИМПИАДА ШКОЛЬНИКОВ ПО ЭКОНОМИКЕ
(школьный этап)
2023 – 2024 учебный год
10-11 классы

Время выполнения: 45 минут

Тестовые задания

Определите один правильный ответ.

За правильный ответ начисляется 2 балла. 0 баллов выставляется за неправильный ответ, а также если участником отмечено более одного ответа (в том числе правильный).

1. Водитель -

- а) лицо, управляющее каким-либо транспортным средством
б) лицо, управляющее только автомобилем
в) лицо, управляющее только автомобилем и автобусом
г) лицо, управляющее только мотоциклом, автомобилем и автобусом

2. В каком направлении нумеруются квартальные столбы, установленные на пересечении лесных просек для указания номеров стандартных лесных кварталов?

- а) с востока на юг
б) с юга на запад
в) с юга на север
г) с запада на восток

3. Определите знамя, которое является государственной реликвией России.

- а) 
- б) 
- в) 
- г) 

~~11~~

12

4. Какое минимальное расстояние друг от друга необходимо соблюдать при переходе водоёма по льду группой?

- а) 5-6 м
- б) 7-8 м
- в) 3-4 м
- г) 1-2 м

5. **Обнаружена закладка из двух гранат. Установите минимальный радиус зоны эвакуации.**

20.

- а) 250 м
б) 50 м
в) 230 м
г) 200 м



6. **На изображении представлен**

05.

- а) Су-57
б) Су-33
в) Су-27 СК
г) Су-35



7. **К боевым ирритантам относят**

25.

- а) хлорпикрин
б) дифосген
в) хлорциан
г) фосген

8. **Какое воинское звание было у Ю.А. Гагарина во время первого в мире полёта в космос?**

25.

- а) старший лейтенант
б) лейтенант
в) майор
г) капитан

9. **Какое соотношение белков, жиров и углеводов соответственно является оптимальным для взрослых и детей старшего возраста?**

25.

- а) 1:1:3
б) 1:1:4
в) 1:4:1
г) 4:1:1

10. **Обзорный осмотр пострадавшего при оказании первой помощи выполняется с целью выявления признаков**

20.

- а) отравления
б) ожога
в) закрытой травмы
г) наружного кровотечения

Определите два правильных ответа.

За каждый правильный ответ начисляется 2 балла.

1. **Определите смысловое значение и область применения данного знака безопасности на объектах инфраструктуры ОАО «РЖД».**

- а) «Доступ посторонним запрещён!»
б) «Стой, опасно для жизни!»
в) «Проход запрещён!»
г) устанавливается в непосредственной близости от мест возможных действий
д) устанавливается на платформе



2. **Определите смысловое значение и область применения СИНЕГО сигнального цвета в знаках безопасности.**

- а) указание
б) разрешение определённых действий
в) помощь, спасение
г) сообщение о нормальной работе оборудования, нормальном состоянии технологического процесса
д) предупреждение, предостережение о возможной опасности

3. **Выберите параметры техногенной чрезвычайной ситуации регионального характера.**

- а) зона чрезвычайной ситуации затрагивает территорию двух и более муниципальных районов, муниципальных округов, городских округов, расположенных на территории одного субъекта Российской Федерации
б) количество людей, погибших и (или) получивших ущерб здоровью, составляет свыше 500 человек либо размер материального ущерба составляет свыше 1,2 млрд рублей
в) количество людей, погибших и (или) получивших ущерб здоровью, составляет не более 50 человек, либо размер материального ущерба составляет не более 12 млн рублей
г) зона чрезвычайной ситуации не выходит за пределы территории одного субъекта Российской Федерации

4. **Что может являться источником биолого-социальной ЧС?**

- а) железнодорожная авария
б) катастрофа
в) эпидемия
г) цунами
д) панфитотия

5. **Сообщения какой тематики принимает Главное управление уголовного розыска МВД России?**

- а) о распространении информации, наносящей вред здоровью и развитию детей
б) о незаконном обороте оружия
в) об интернет-мошенничестве
г) о пропаганде социальной, расовой, национальной или религиозной

розни

д) о скулшутинге

6. Выберите отдельные рода войск ВС РФ.

а) РВСН

б) ПВО

в) ВМФ

г) РХБЗ

д) ВДВ

7. Для гражданина Российской Федерации защита Отечества является

а) правом

б) предназначением

в) обязательством

г) долгом

д) обязанностью

8. Автомат Калашникова калибра 5,56 мм АК-19 был разработан на базе автомата ... калибра ... и является индивидуальным стрелковым оружием.

а) 5,45 мм

б) 7,62 мм

в) АК-12

г) АКМ

д) АК-15

9. Недостаток йода в организме человека может приводить к

а) «куриной слепоте»

б) повышенной кровоточивости

в) нарушению синтеза тироксина

г) нарушению синтеза инсулина

д) снижению интеллекта в раннем детском возрасте

10. При каких травмах и (или) состояниях пострадавшему придают оптимальное положение тела, изображённое на рисунке?

а) травма позвоночника

б) затруднение дыхания (одышка)

в) травма таза

г) большая кровопотеря (травматический

шок)

д) травма живота



Теоретические задания

Максимальная оценка за правильно выполненные задания – 10 баллов

Задание 1

Расположите предложенные фрагменты в верной последовательности, чтобы в итоге получилось определение.

или без него, рабочий объём	+ 2		1
превышает 50 куб. см или максимальная конструктивная	+ 4		2
двигателя которого (в случае двигателя внутреннего сгорания)	+ 3		3
скорость (при любом двигателе) превышает 50 км/ч	+ 5		4
двухколёсное механическое транспортное средство с боковым прицепом	+ 1		5

WS

Задание 2

Сопоставьте изображения авиационной техники воздушно-космических сил Российской Федерации с их наименованиями.

- Ту-160
- Су-30МК
- Су-57
- Ту-95МС
- МиГ-35

	ТУ-160	WS
	СУ 30МК	WS

0

~~WS~~

Задание 3

Для инфекционных заболеваний характерна цикличность течения.

1. Установите соответствие между наименованием периода инфекционного заболевания и его характеристикой.

Период инфекционного заболевания	Характеристика периода инфекционного заболевания
Начальный (продромальный)	Период проявления общих признаков заболевания. В этот период ещё нет чётко выраженных признаков конкретного заболевания
Угасания болезни (реконвалесценции)	Период, когда постепенно исчезают основные признаки болезни, начинается выздоровление организма, постепенно восстанавливаются нарушенные функции организма
Инкубационный	Период максимального проявления наиболее существенных и специфических признаков конкретного заболевания
Основных проявлений болезни (разгара болезни)	Промежуток времени от момента заражения до появления первых признаков болезни

5.
105.

2. Какое из перечисленных заболеваний передаётся воздушно-капельным путём?

- а) гепатит А
- б) гепатит В
- в) корь
- г) малярия

105.
5.

Задание 4

Укажите наименования воинских званий в соответствии со знаками различия на погонах лейтенант, старший лейтенант, майор, полковник, генерал-майор, генерал-лейтенант, генерал-полковник, генерал армии.

				
ГЕНЕРАЛ-ПОЛКОВНИК	ПОЛКОВНИК	ГЕНЕРАЛ-МАЙОР	СТАРШИЙ ЛЕЙТЕНАНТ	ГЕНЕРАЛ АРМИИ
↓	↓	↓	↓	↓

105.

105.

ФИО, клас

Шифр ОБХ 9-7

Линия отреза

Шифр ОБХ 9-7

Муниципальное образование «Иурьевский муниципальный округ»
ВСЕРОССИЙСКАЯ ОЛИМПИАДА ШКОЛЬНИКОВ ПО ЭКОНОМИКЕ
(школьный этап)
2023 – 2024 учебный год
9 класс

Время выполнения: 45 минут

Тестовые задания

Определите один правильный ответ.

За правильный ответ начисляется 2 балла. 0 баллов выставляется за неправильный ответ, а также если участником отмечено более одного ответа (в том числе правильный).

1. **Велосипедист**

- а) всегда является водителем транспортного средства
- б) не является водителем транспортного средства
- в) не является водителем транспортного средства в возрасте до 14 лет
- г) является водителем транспортного средства только в возрасте старше 18 лет

2. **Какой узел является схватывающим?**

- а) стремя
- б) прусик
- в) проводник
- г) штык

3. **О чём предупреждает изображённый знак?**

- а) о том, что движение скоростных поездов запрещено
- б) о движении скоростных поездов
- в) о том, что движение скоростных поездов осуществляется через равные интервалы времени
- г) о том, что движение скоростных поездов временно остановлено



4. **Запускать небесные, или китайские, фонарики на территории всех поселений и городских округов**

- а) разрешено
- б) запрещено
- в) запрещено только в ветреную погоду
- г) разрешено только в дождливую погоду

70

5. **Находясь на эскалаторе в метро, запрещается**

- a) стоять справа лицом по направлению его движения
- 2 б) бежать по эскалатору
- в) держать детей на руках
- г) проходить с левой стороны

2 6. Для улучшения защитных свойств ватно-марлевой повязки от хлора её рекомендуется смочить в а) 7-9%-ном растворе яблочного уксуса б) 2%-ном растворе уксусной кислоты в) 5%-ном растворе лимонной кислоты г) 2-5%-ном растворе пищевой соды

2 7. Обнаружен подозрительный автомобиль. Установите минимальный радиус зоны эвакуации.

- а) 1240 м
- б) 580 м
- в) 920 м
- г) 460 м



8. Какой витамин образуется в организме человека при воздействии на кожу солнечных лучей?

- 2
- а) А
 - б) К
 - в) Е
 - г) D

9. С какого мероприятия начинается оказание первой помощи пострадавшему?

- 2
- а) определение состояния пострадавшего
 - б) выполнение обзорного осмотра пострадавшего
 - в) выполнение подробного осмотра пострадавшего
 - г) оценка обстановки и создание безопасных условий для оказания первой помощи

10. Какая повязка является основой при наложении других видов повязок?

- 0
- а) спиральная
 - б) круговая (циркулярная)
 - в) восьмиобразная (крестообразная)
 - г) колосовидная

Определите два правильных ответа.

За каждый правильный ответ начисляется 2 балла.

1. **Определите смысловое значение и область применения данного знака безопасности на объектах инфраструктуры ОАО «РЖД».**

- а) «Прыгать с платформы запрещено!»
б) «Стоять у края платформы не допускается!»
в) «Осторожно. Возможность падения с платформы»
г) устанавливается на вокзале
д) устанавливается на платформе



2. **Определите смысловое значение и область применения КРАСНОГО сигнального цвета в знаках безопасности.**

- а) требование обязательных действий в целях обеспечения безопасности
б) непосредственная опасность
в) предупреждение, предостережение о возможной опасности
г) возможная опасность
д) запрещение опасного поведения или действия

3. **Определите, какой костёр оптимально использовать только для ночёвки и узел, используемый для крепления к опоре.**

- а) баррел
б) «пирамида»
в) «встречный»
г) «решётка»
д) «австрийский проводник»

4. **Выберите характерные признаки приближающейся грозы.**

- а) резкое увеличение атмосферного давления и температуры воздуха
б) ухудшение слышимости далёких звуков
в) резкое увеличение порывов ветра
г) появление изнурительной духоты
д) резкое понижение атмосферного давления и температуры воздуха

5. **Что может являться источником природно-техногенной ЧС?**

- а) транспортная авария
б) землетрясение
в) катастрофа
г) наводнение
д) эпифитотия

6. **К опасным метеорологическим явлениям и процессам относят**

- а) шторм

Теоретические задания

Задание 1

Расположите предложенные фрагменты в верной последовательности, чтобы в итоге получилось определение.

конструктивная скорость которого не превышает 50 км/ч, имеющее		1
в режиме длительной нагрузки более 0,25 кВт и менее 4 кВт		2
двух- или трёхколёсное механическое транспортное средство, максимальная		3
или электродвигатель номинальной максимальной мощностью		4
двигатель внутреннего сгорания с рабочим объёмом, не превышающим 50 куб. см		5

10

Максимальная оценка за правильно выполненное задание – 10 баллов

Задание 2

Для распространения инфекционных заболеваний обязательным условием является наличие трёх звеньев - источника инфекции, механизмов (путей) передачи инфекции и восприимчивого организма. Для того, чтобы предупредить распространение инфекции, проводятся противоэпидемические мероприятия, направленные на каждое звено эпидемического процесса.

Определите, на какое звено эпидемического процесса направлено каждое из перечисленных противоэпидемических мероприятий.

Противоэпидемические мероприятия	Звенья эпидемического процесса
Вакцинация	Источник инфекции
Применение бактерицидных ультрафиолетовых ламп	Механизм передачи инфекции
Уборка помещений с применением дезинфицирующих средств	Восприимчивый организм
Выявление больных, их лечение и изоляция	
Применение иммуноглобулинов, иммунных сывороток	

Максимальная оценка за правильно выполненное задание – 10 баллов

8

Задание 3

АХОВ различаются по воздействию на организм человека. **Распределите по группам АХОВ:** хлор, трёххлористый фосфор, фосген, хлорпикрин, оксид углерода, синильная кислота, сернистый ангидрид, сероводород, метилмеркаптан, оксид этилена.

Ответ:

Группы АХОВ	АХОВ
Вещества с преимущественно удушающим действием, с выраженным прижигающим действием	трёххлористый фосфор
Вещества с преимущественно удушающим действием, со слабым прижигающим действием	оксид углерода
Вещества общеядовитого действия	хлор
Вещества, обладающие удушающим и общеядовитым действием	сернистый ангидрид
Нейротропные яды	оксид этилена

Максимальная оценка за правильно выполненное задание – 10 баллов






6

Задание 4

Международные символы предупреждения на морских пляжах представляют собой флаги, установленные на берегу.

Определите значение флагов: «Опасность! Купаться запрещено»; «Территория для сёрфинга»; «Повышенная опасность! Заходить в воду запрещено»; «Море спокойно. Безопасные условия для купания»; «Соблюдайте осторожность! Желательно купаться не в одиночку».

Ответ:

	Опасность! купаться запрещено.
	Территория для сёрфинга
	повышенная опасность! Заходить в воду запрещено
	море спокойно. Безопасные условия для купания
	повышенная опасность! Заходить в воду запрещено повышенная опасность Соблюдайте осторожность! Желательно купаться не в одиночку Соблюдайте осторожность! Желательно купаться не в одиночку

10

688

ФИО, класс _____

Шифр 10-4

Линия отреза _____

Шифр 10-4

Муниципальное образование «Гурьевский муниципальный округ»
ВСЕРОССИЙСКАЯ ОЛИМПИАДА ШКОЛЬНИКОВ ПО ЭКОНОМИКЕ

(школьный этап)

2023 – 2024 учебный год

10-11 классы

Время выполнения: 45 минут

Тестовые задания

Определите один правильный ответ.

За правильный ответ начисляется 2 балла. 0 баллов выставляется за неправильный ответ, а также если участником отмечено более одного ответа (в том числе правильный).

1. Водитель -

- 25.*
- а) лицо, управляющее каким-либо транспортным средством
 - б) лицо, управляющее только автомобилем
 - в) лицо, управляющее только автомобилем и автобусом
 - г) лицо, управляющее только мотоциклом, автомобилем и автобусом

2. В каком направлении нумеруются квартальные столбы, установленные на пересечении лесных просек для указания номеров стандартных лесных кварталов?

- 25.*
- а) с востока на юг
 - б) с юга на запад
 - в) с юга на север
 - г) с запада на восток

3. Определите знамя, которое является государственной реликвией России.

- 25*
- а) 
 - б) 
 - в) 
 - г) 
- 960*

4. Какое минимальное расстояние друг от друга необходимо соблюдать при переходе водоёма по льду группой?

- а) 5-6 м
- б) 7-8 м
- в) 3-4 м
- г) 1-2 м

25.

5. Обнаружена закладка из двух гранат. Установите минимальный радиус зоны эвакуации.

- а) 250 м
- б) 50 м
- в) 230 м
- г) 200 м

25.



6. На изображении представлен

- а) Су-57
- б) Су-33
- в) Су-27 СК
- г) Су-35

25.



7. К боевым ирритантам относят

- а) хлорпикрин
- б) дифосген
- в) хлорциан
- г) фосген

05.

8. Какое воинское звание было у Ю.А. Гагарина во время первого в мире полёта в космос?

- а) старший лейтенант
- б) лейтенант
- в) майор
- г) капитан

25.

9. Какое соотношение белков, жиров и углеводов соответственно является оптимальным для взрослых и детей старшего возраста?

- а) 1:1:3
- б) 1:1:4
- в) 1:4:1
- г) 4:1:1

25.

10. Обзорный осмотр пострадавшего при оказании первой помощи выполняется с целью выявления признаков

- а) отравления
- б) ожога
- в) закрытой травмы
- г) наружного кровотечения

25.

Определите два правильных ответа.

За каждый правильный ответ начисляется 2 балла.

1. **Определите смысловое значение и область применения данного знака безопасности на объектах инфраструктуры ОАО «РЖД».**

- а) «Доступ посторонним запрещён!»
 б) «Стой, опасно для жизни!»
 в) «Проход запрещён!»
 г) устанавливается в непосредственной близости от мест возможных действий
 д) устанавливается на платформе



2. **Определите смысловое значение и область применения СИНЕГО сигнального цвета в знаках безопасности.**

- а) указание
 б) разрешение определённых действий
 в) помощь, спасение
 г) сообщение о нормальной работе оборудования, нормальном состоянии технологического процесса
 д) предупреждение, предостережение о возможной опасности

3. **Выберите параметры техногенной чрезвычайной ситуации регионального характера.**

- а) зона чрезвычайной ситуации затрагивает территорию двух и более муниципальных районов, муниципальных округов, городских округов, расположенных на территории одного субъекта Российской Федерации
 б) количество людей, погибших и (или) получивших ущерб здоровью, составляет свыше 500 человек либо размер материального ущерба составляет свыше 1,2 млрд рублей
 в) количество людей, погибших и (или) получивших ущерб здоровью, составляет не более 50 человек, либо размер материального ущерба составляет не более 12 млн рублей
 г) зона чрезвычайной ситуации не выходит за пределы территории одного субъекта Российской Федерации

4. **Что может являться источником биолого-социальной ЧС?**

- а) железнодорожная авария
 б) катастрофа
 в) эпидемия
 г) цунами
 д) панфитотия

5. **Сообщения какой тематики принимает Главное управление уголовного розыска МВД России?**

- а) о распространении информации, наносящей вред здоровью и развитию детей
 б) о незаконном обороте оружия
 в) об интернет-мошенничестве
 г) о пропаганде социальной, расовой, национальной или религиозной

розни

д) о скулшутинге

6. Выберите отдельные рода войск ВС РФ.

а) РВСН

б) ПВО

в) ВМФ

г) РХБЗ

д) ВДВ

7. Для гражданина Российской Федерации защита Отечества является

а) правом

б) предназначением

в) обязательством

г) долгом

д) обязанностью

8. Автомат Калашникова калибра 5,56 мм АК-19 был разработан на базе автомата ... калибра ... и является индивидуальным стрелковым оружием.

а) 5,45 мм

б) 7,62 мм

в) АК-12

г) АКМ

д) АК-15

9. Недостаток йода в организме человека может приводить к

а) «куриной слепоте»

б) повышенной кровоточивости

в) нарушению синтеза тироксина

г) нарушению синтеза инсулина

д) снижению интеллекта в раннем детском возрасте

10. При каких травмах и (или) состояниях пострадавшему придают оптимальное положение тела, изображённое на рисунке?

а) травма позвоночника

б) затруднение дыхания (одышка)

в) травма таза

г) большая кровопотеря (травматический

шок)

д) травма живота



Теоретические задания

Максимальная оценка за правильно выполненное задание – 10 баллов

Задание 1

Расположите предложенные фрагменты в верной последовательности, чтобы в итоге получилось определение.

или без него, рабочий объём	2		1
превышает 50 куб. см или максимальная конструктивная	4		2
двигателя которого (в случае двигателя внутреннего сгорания)	3		3
скорость (при любом двигателе) превышает 50 км/ч	5		4
двухколёсное механическое транспортное средство с боковым прицепом	1		5

Задание 2

Сопоставьте изображения авиационной техники воздушно-космических сил Российской Федерации с их наименованиями.

- Ту-160 Су-30МК Су-57
 Ту-95МС МиГ-35

	Ту-160	✓
	Су 30МК	✓
	Ту-95МС	✓
	Су 57	✓
	МиГ-35	✓

Задание 3

Для инфекционных заболеваний характерна цикличность течения.
1. Установите соответствие между наименованием периода инфекционного заболевания и его характеристикой.

Период инфекционного заболевания	Характеристика периода инфекционного заболевания
Начальный (продромальный)	Период проявления общих признаков заболевания. В этот период ещё нет чётко выраженных признаков конкретного заболевания
Угасания болезни (реконвалесценции)	Период, когда постепенно исчезают основные признаки болезни, начинается выздоровление организма, постепенно восстанавливаются нарушенные функции организма
Инкубационный	Период максимального проявления наиболее существенных и специфических признаков конкретного заболевания
Основных проявлений болезни (разгара болезни)	Промежуток времени от момента заражения до появления первых признаков болезни

2. Какое из перечисленных заболеваний передаётся воздушно-капельным путём?

- а) гепатит А
б) гепатит В
в) корь
г) малярия

Задание 4

Укажите наименования воинских званий в соответствии со знаками различия на погонах лейтенант, старший лейтенант, майор, полковник, генерал-майор, генерал-лейтенант, генерал-полковник, генерал армии.

				
Генерал-полковник	Полковник	Генерал-майор	Старший лейтенант	Генерал армии